

مدرسة الأندلس الخاصة للبنات
العام الأكاديمي 2024/2023



الأوراق الإثرائية لاختبار نهاية الفصل

الدراسي الثاني

مادة الدراسات الاجتماعية

الصف العاشر

اسم الطالبة/.....

الصف والشعبة /.....

الأسئلة الموضوعية: اختر الإجابة الصحيحة من بين البدائل التالية :-

1.1	في عهد الشيخ خليفة بن حمد آل ثاني تم إنشاء وكالة الأنباء القطرية في عام :
A	1975م
B	1980م
C	1990م
D	1995م

1.2	من المزارع التي تهتم بتربية الأبقار مزرعة :
A	أم قرن
B	الركية
C	الشحانية
D	الذخيرة

1.3	تنازل الشيخ حمد بن خليفة لولي عهده سمو الشيخ تميم بن حمد آل ثاني عن الحكم عام :
A	2012م
B	2013م
C	2014م
D	2015م

1.4	تعد مؤسسة قطر للتربية والعلوم من إنجازات الشيخ حمد بن خليفة آل ثاني في مجال:
A	التعليم
B	الصحة
C	السياسة
D	الإعلام .

1.5	في عهد الشيخ تميم بن حمد عام 2017 م تم إنجاز :
A	كلية الشرطة
B	مطار حمد الدولي
C	ميناء حمد البحري
D	أول قمر صناعي قطري

1.6	ينتهي تحقيق رؤية قطر الوطنية بحلول عام :
A	2030م
B	2040م
C	2050م
D	2060م

1.7	في مدينة كوبنهاجن تم إنشاء مركز حمد بن خليفة الحضاري لنشر ثقافة السلام في دولة :
A	الدنمارك
B	فرنسا
C	النمسا
D	الولايات المتحدة الأمريكية

1.8	من المدن التي تضم مركزاً متكاملاً لإدارة النفايات هي مدينة:
A	الخور
B	مشيرب
C	مسيعيد
D	الوكرة

1.9	في عام 2010م تم تأسيس اللجنة القطرية لـ :	
	العولمة	A
	ثقافة السلام	B
	تحالف الحضارات	C
	الحوار السياسي	D

1.10	تم إغلاق المنافذ البحرية والجوية والبرية في حصار دولة قطر في عام :	
	2020م	A
	2019م	B
	2018 م	C
	2017 م	D

1.11	من مساعدات دولة قطر التي قدمت لإنдонيسيا مساعدة من :	
	الزلازل	A
	البركان	B
	الفيضان	C
	إعصار تسونامي	D

1.12	يهدف إلى تعزيز التعاون في المشاريع الدولية هو الحوار	
	الديني	A
	الاقتصادي	B
	الثقافي	C
	السياسي	D

الأسئلة المقالية :

اجب عن الأسئلة التالية:

السؤال الأول:

❖ حددي مبادئ ثقافة السلام .

1-.....

2-.....

3-.....

السؤال الثاني:عرفي المصطلحات الآتية :

❖ التصحر:.....

❖ المشكلات البيئية:.....

السؤال الثالث:

تبذل دولة قطر جهودًا عديدة للنهوض بالصناعة دلي على ذلك .

1-.....

2-.....

3-.....

السؤال الرابع :

عددي بعض من ملامح التطور الاقتصادي في عهد الشيخ أحمد بن علي آل ثاني

1-.....

2-.....

3-.....

السؤال الخامس

❖ حرص الشيخ خليفة بن حمد آل ثاني على تحقيق نهضة إعلامية في البلاد دلي على ذلك .

1-.....

2-.....

3-.....

السؤال السادس

❖ ما جهود دولة قطر في إعادة إعمار إقليم دارفور .

1-.....

2-.....

3-.....

السؤال السابع :

❖ ما جهود دولة قطر في تطبيق مبدأ الاستدامة في القطاع الزراعي .

1-.....

2-.....

3-.....

السؤال الثامن

❖ وضح أهمية السياحة في دولة قطر .

1-.....

2-.....

3-.....

السؤال التاسع:

❖ تعاني دولة قطر من العديد من المشكلات البيئية وضح ذلك:

- 1-.....
- 2-.....
- 3-.....

السؤال العاشر:

❖ عددي بعض من إنجازات الشيخ تميم بن حمد آل ثاني .

- 1-.....
- 2-.....
- 3-.....

السؤال الحادي عشر:

❖ بم تفسري إنشاء الشيخ حمد بن خليفة آل ثاني مؤسسة الرعاية الصحية عام 2012م.

- 1-.....
- 2-.....
- 3-.....

السؤال الثاني عشر:

❖ تعاني المياه الجوفية في دولة قطر من بعض المشاكل دلي على ذلك .

1-.....

2-.....

السؤال الثالث عشر:

❖ وضحي إنجازات الشيخ خليفه بن حمد في المجالات الآتية:

(التعليم - الصحة - الكهرباء والماء)

.....

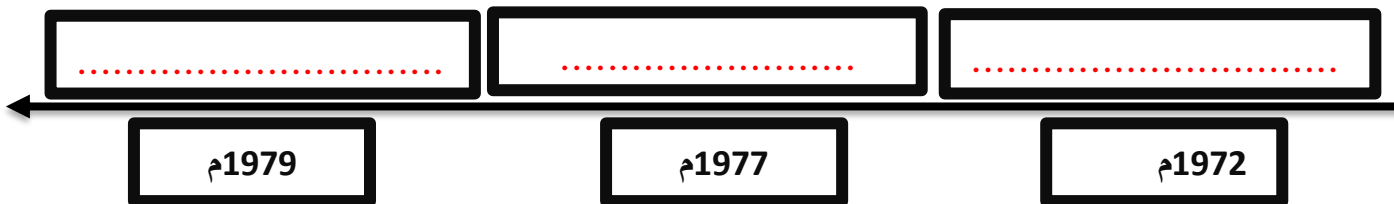
.....

.....

.....


السؤال الرابع عشر:رتبى على الخط الزمني المناصب التي تولاها الشيخ حمد بن خليفة آل ثاني من الأقدم للأحدث:

(رئيس المجلس الأعلى للشباب - وزيراً للدفاع - قائد للقوات المسلحة)

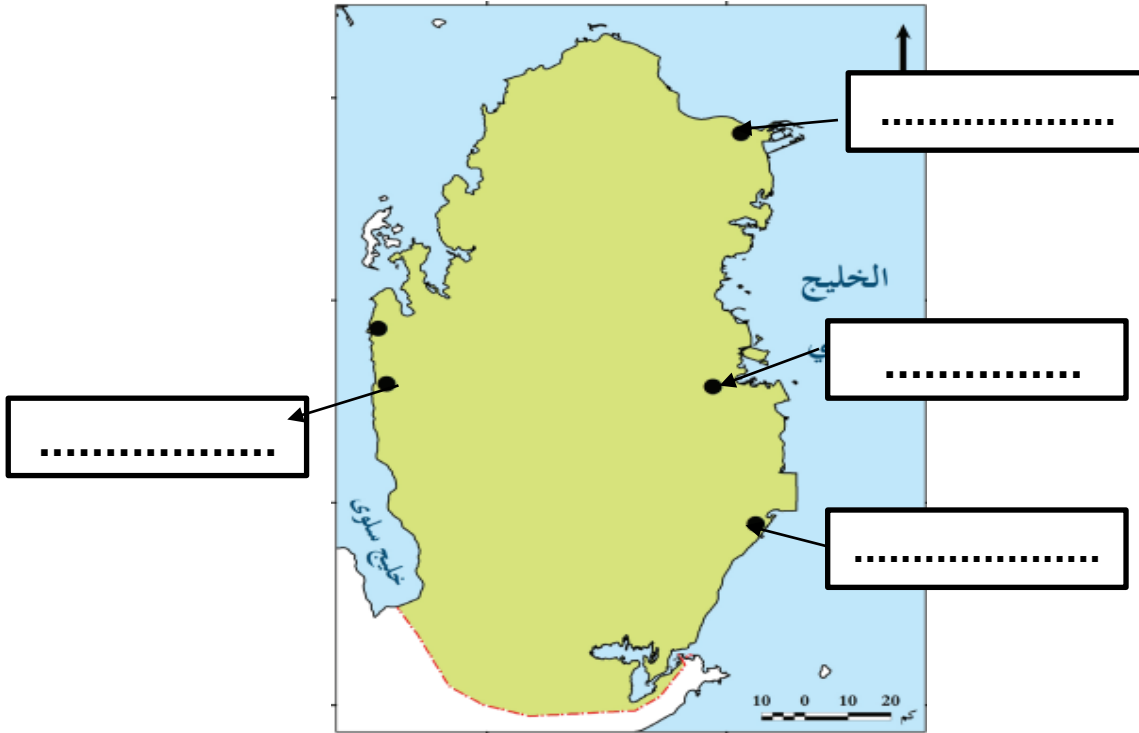


السؤال الخامس عشر:رتبى على الخط الزمني إنجازات الشيخ تميم بن حمد آل ثاني :-

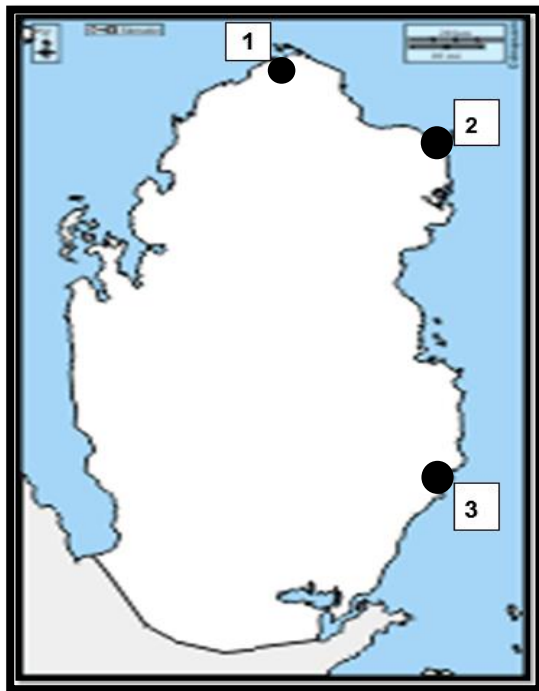
(افتتاح مطار حمد الدولي - افتتاح أول خط مترو(الريل) - إنشاء أول كلية للشرطة)



السؤال السادس عشر : حددي على خريطة دولة قطر الصماء التي أمامك المناطق الصناعية في المربعات المشار إليها بالأسم :-



السؤال السابع عشر اكتب ما تشير إليه دلالات الأرقام على خريطة الموانئ البحرية الصماء التي أمامك :



1 - ميناء :

2- ميناء :

3- ميناء :

(انتهت الأسئلة)