




العام الدراسي
2024-2023

الصف
11



مادة الجغرافيا

تدريبات علاجية – واجبات (محلولة)

منهاج الفصل الدراسي الثاني

اسم الطالب:

الصف: الحادي عشر أدبي

ملحوظة مهمة: هذه الأسئلة إثرائية ولا تغني عن الكتاب المدرسي وهو المصدر الرئيس للتعلم



أوراق علاجية الوحدة الأولى (الخصائص الطبيعية لقارة أمريكا الشمالية)

”الأسبوع الأول“ 7 - 11 / يناير 2024 م

اسم الطالب /

أولاً : الاختيار من متعدد :

1- تتصل قارة أمريكا الشمالية بقارة أمريكا الجنوبية عن طريق:

أ - خليج هدسن

ب - قناة بنما

ج - جزيرة جرين لاند

د - برزخ أمريكا الوسطى

2- أكبر دول قارة أمريكا الشمالية مساحة:

أ - الولايات المتحدة

ب - بنما

ج - المكسيك

د - كندا

3- تطل قارة أمريكا الشمالية من جهة الشمال على المحيط:

أ - الهادي

ب - الهندي

ج - القطبي

د - الأطلنطي

4- سلسلة جبلية داخلية شديدة الارتفاع تمتد في كندا والولايات المتحدة:

أ - روكي

ب - ماكينزي

ج - ألaska

د - الأبلش

5- ثالث قارات العالم من حيث المساحة:

أ - آسيا.

ب - أوروبا

ج - أمريكا الشمالية

د - إفريقيا

6- يفصل بين قارتي آسيا وأمريكا الشمالية مضيق:

أ - ملقا .

ب - بيرنج

ج - البسفور

د - الدردنيل .

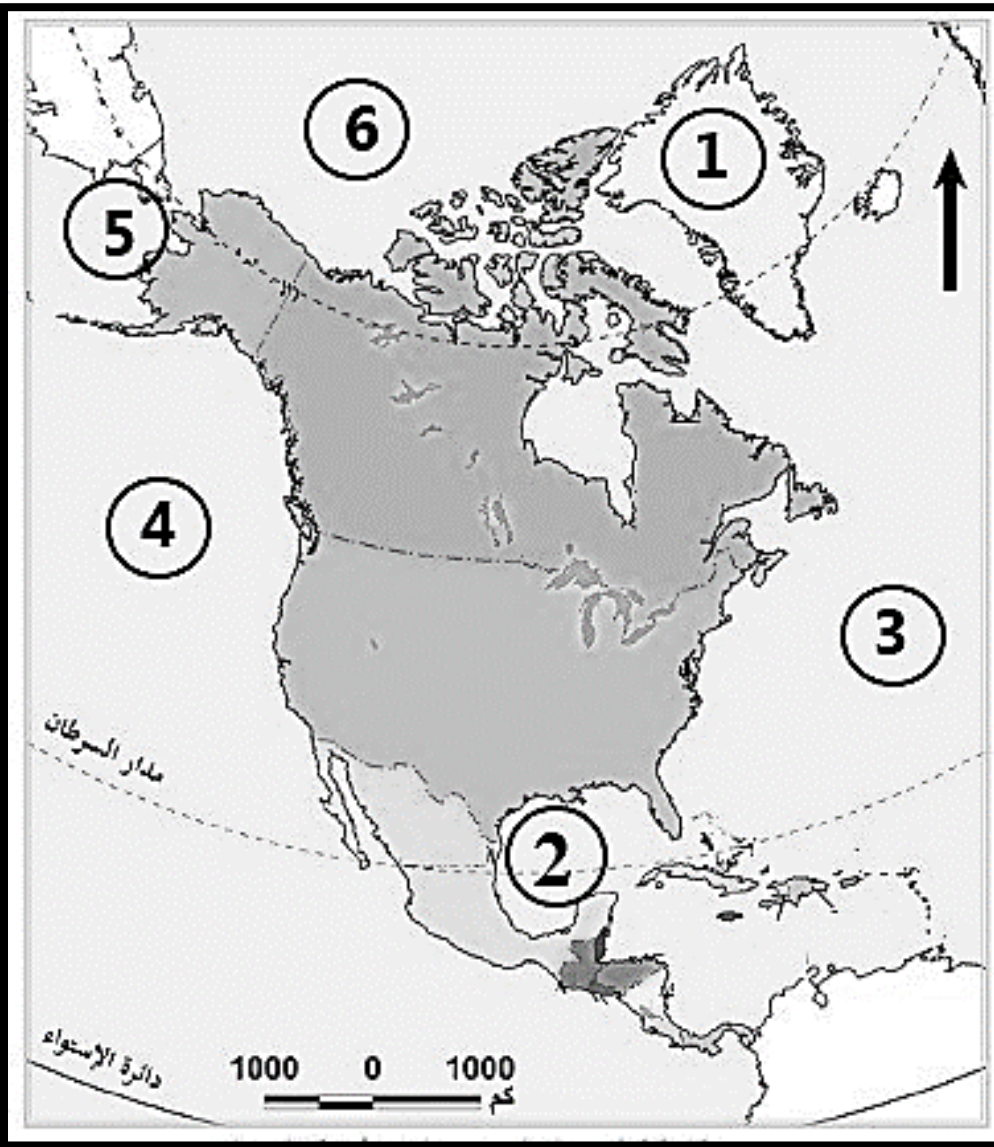
ثانياً: أجب عما يلي :

1- ما الأهمية الاستراتيجية لموقع قارة أمريكا الشمالية.

1- تنوع الأقاليم الطبيعية والمناخية

2- تنوع المحاصيل الزراعية والنباتات الطبيعية

2- اكتب ما تشير إليه الأرقام على خريطة قارة أمريكا الشمالية التي أمامك:



• (1) على جزيرة : جرين لاند

• (2) على خليج : المكسيك

• (3) على المحيط : الاطلنطي

• (4) على المحيط : الهادي

• (5) على مضيق : بيرنج

• (6) على المحيط :

• القطبي الشمالي



الوحدة الأولى (الخصائص الطبيعية لقارة أمريكا الشمالية)

الأسبوع الثاني: 14 - 18 / يناير 2024م

أولاً : الاختيار من متعدد :

1- يصب نهر المسيسيبي في:

ب - خليج المكسيك.

أ - خليج هدسن

د - المحيط الأطلنطي

ج - المحيط الهادي

2- ينتشر في المناطق الشمالية لقارة أمريكا الشمالية المناخ:

ب - القطبي

أ - المداري

د - الصحراوي

ج - الاستوائي

3- منطقة ضغط جوي منخفض تتكون فوق المحيطات الدافئة وتستقطب الرياح من مناطق أخرى، ينتج عنها رياح حلزونية سريعة" ،يقصد بهذا المصطلح :

ب - الضغط الجوي

أ - الأعاصير

د - موجات تسونامي.

ج - الفيضانات

4- أكثر جهات العالم تعرضاً للأعاصير:

ب - البحر الأحمر

أ - البحر المتوسط

د - المحيط الهندي

ج - البحر الكاريبي

5- يمر بالسواحل الشمالية الشرقية لقارة أمريكا الشمالية تيار:

ب - لبرادور .

أ - موزمبيق

د - المكسيك

ج - كاليفورنيا .



6- أكثر مناطق الغرب الأمريكي جفافاً:

- أ - جبال روكي
ج - هضبة لبرادور .
ب - جبال كسكيد.
د - الحوض العظيم.

-أجب عما يلي:

1- ما العوامل المؤثرة في مناخ قارة أمريكا الشمالية.

1- الموقع بالنسبة لدوائر العرض.

2- المساحة وشكل الساحل

3- مظاهر السطح

2- عدد أبرز الجبال في قارة أمريكا الشمالية.

1- جبال روكي

2- جبال الابلاش

3- جبال كسكيد - سييرا نيفادا

3- عدد أبرز الانهار في قارة أمريكا الشمالية.

1- المسيسيبي

2- ماكينزي

3- نلسن .



4- ما النتائج المترتبة على الأعاصير في قارة أمريكا الشمالية.

أ- خسائر مادية وتدمير الطرق والمباني

ب- انتشار الحرائق

ج- حدوث الوفيات

5- بين الجهود الدولية لمواجهة آثار الإعصار.

أ- تقديم المعونات والإغاثة لضحايا الأعاصير

ب- إعانات غذائية للمناطق المتضررة

ج- توفير الدعم (غذاء - أدوية)

6- عدد الأقاليم المناخية في قارة أمريكا الشمالية.

1- الأقاليم الباردة

2- الأقاليم المعتدلة الباردة

3- الأقاليم المعتدلة الدفينة 4- الأقاليم الحارة

7- ما العوامل التي تتحكم في قوة الأعاصير.

أ- اتجاه الإعصار ب- سرعة وحجم الإعصار

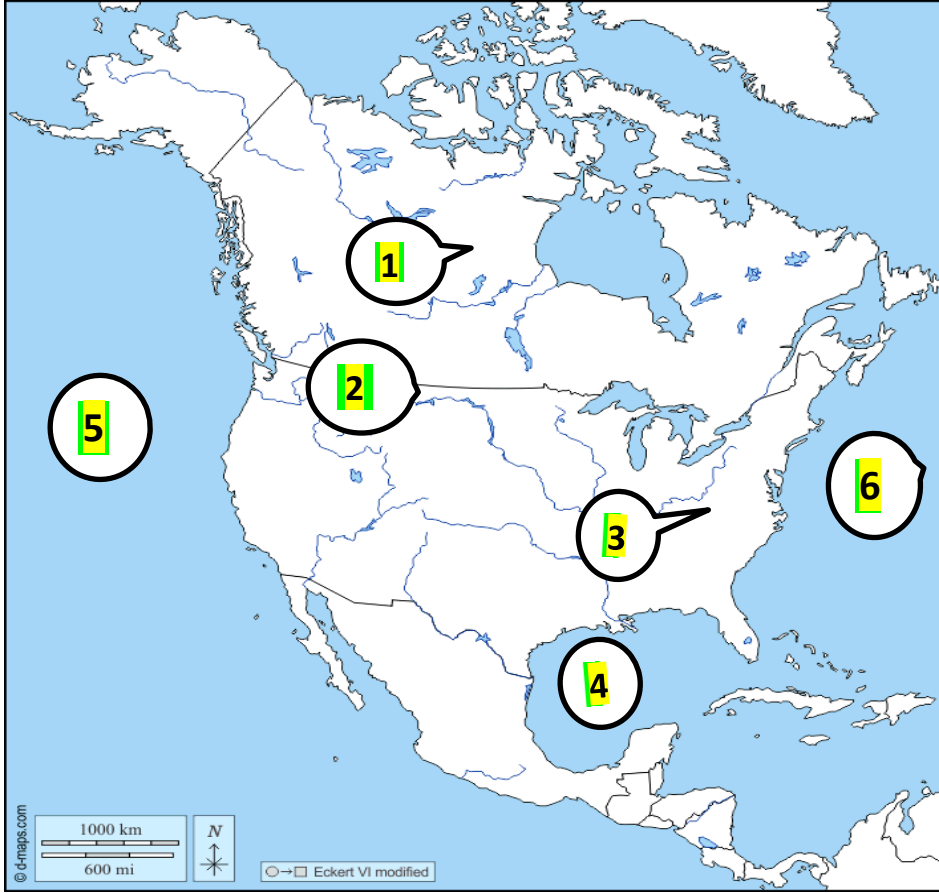
8- وضح مميزات السهول الوسطى في قارة أمريكا الشمالية.

1- وجود العديد من البحيرات (البحيرات العظمى)

2- يجري بها العديد من الأنهار مثل: 1- المسيسيبي 2- ماكينزي 3- نلسن .



اكتب أسماء الأماكن المُشار إليها على خريطة قارة أمريكا الشمالية الصماء:



1. دولة : كندا

2. جبال : روكي

3-جبال : الابلاش

4- خليج : المكسيك

5- المحيط :. الهادي

6- المحيط : الاطلنطي

الرؤية: الريادة في توفير فرص تعلم دائمة ومبتكرة وذات جودة عالية للمجتمع القطري.

الرسالة: تنظيم ودعم فرص تعلم ذات جودة عالية لكافة المراحل والمستويات، وذلك بهدف تنمية المعارف والمهارات والاتجاهات اللازمة لأفراد المجتمع القطري، بما يناسب إمكاناتهم وقدراتهم وفق القيم والاحتياجات الوطنية.

الوحدة الأولى (السكان في قارة أمريكا الشمالية)
الأسبوع الثالث: 21 – 25 / يناير 2024 م

أولاً : الاختيار من متعدد :

1- يأتي ترتيب قارة أمريكا الشمالية بين قارات العالم من حيث عدد السكان:

أ- الثاني **ب- الثالث**

د- الخامس

2 - الدولة التي تحتل المرتبة الأولى من حيث عدد السكان في قارة أمريكا الشمالية:

أ- كوبا ب- كندا

ج - المكسيك

3- السكان الأصليين لقارة أمريكا الشمالية هم:

أ- الزنوج

ج - الفايكينج **د - القوقازيون**

4- تتجه معدلات الوفيات في قارة أمريكا الشمالية بشكل عام نحو :

أ- الارتفاع ب- الانخفاض

ج- الثبات د- التطابق

5- بلغت نسبة الأطفال بقارة أمريكا الشمالية أقل من 14 عامًا من إجمالي سكان القارة:

أ- الربع ب- أكثر من النصف

ج- أقل من النصف



6 - يوجد نحو 55.3 % من سكان قارة أمريكا الشمالية في دولة:

ب- كوبا

ا- كندا

د- الولايات المتحدة

ج- المكسيك

-أجب عما يلي:

بم تفسر :

1- انخفاض المواليد في قارة أمريكا الشمالية؟

أ- تأخر سن الزواج وارتفاع معدلات الطلاق

ب- عمل المرأة

ج- ارتفاع مستوى المعيشة

2- ارتفاع الكثافة السكانية على السواحل المطلة على المحيط الأطلنطي؟

أ- اعتدال المناخ

ب- قيام المدن مثل نيويورك

ج- بداية الاستقرار البشري



4- بم تفسر ارتفاع معدل الوفيات في قارة أمريكا الشمالية منذ العام 2015 م؟

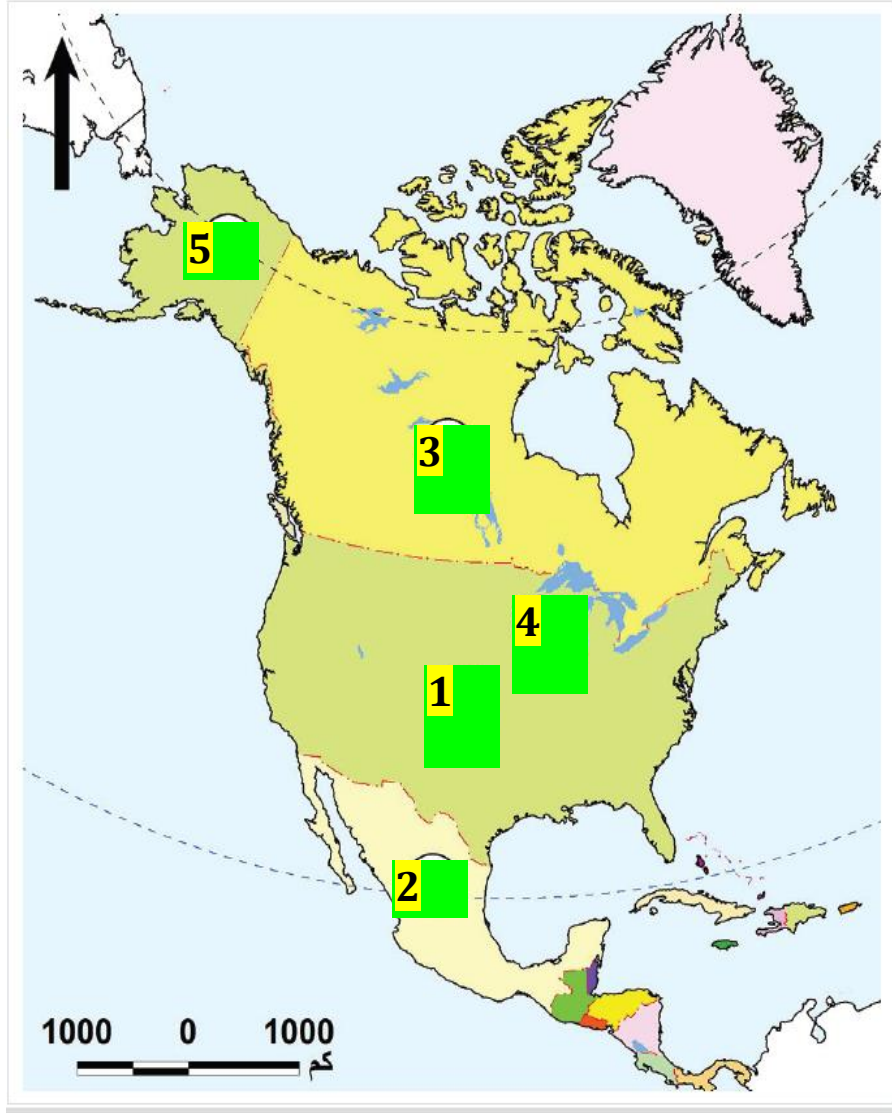
أ- ارتفاع نسب كبار السن

ب- انخفاض معدل المواليد

5- قارن بين كل من السياسات السكانية للدول المتقدمة والدول النامية بقارة أمريكا الشمالية:

السياسات السكانية للدول النامية	السياسات السكانية للدول المتقدمة
دول أمريكا الوسطى ودول الكاريبي لديها معدلات مواليد مرتفعة ووفيات مرتفعة	مثل الولايات المتحدة وكندا تعمل على رفع معدلات المواليد والاستمرار في خفض الوفيات

6- أمامك خريطة لقارة أمريكا الشمالية حدد عليها ما يلي:



1- أول دول القارة من حيث عدد السكان. - الولايات المتحدة

2- ثاني دول القارة من حيث عدد السكان كندا

3- ثالث دول القارة من حيث عدد السكان المكسيك

4- منطقة ذات كثافة مرتفعة. شيكاغو

5- منطقة ذات كثافة منخفضة. ألاسكا



أوراق علاجية الوحدة الأولى (مراجعة الخصائص الطبيعية والسكان في قارة أمريكا الشمالية)

اختبار شهر يناير:

اسم الطالب / " الأسبوع الرابع 1-28 إلى 1-2 / 2024م

أولاً : الاختيار من متعدد :

التاريخ: 2024/1/

مادة: الجغرافيا	الزمن: 15 دقائق
اسم الطالب	الصف/الشعبة
.....	3-11

أولاً الأسئلة الموضوعية: قم بتحديد إجابتك بوضع علامة X في المربع المقابل للاختيار الصحيح:

1	– تتصل قارة أمريكا الشمالية بقارة أمريكا الجنوبية عن طريق:
A	قناة بنما
B	خليج هدرسن
C	جزيرة جرين لاند
D	برزخ أمريكا الوسطى
2	أي الدول التالية تحتل المرتبة الأولى في عدد السكان في قارة أمريكا الشمالية؟
A	كندا
B	المكسيك
C	كوستاريكا
D	الولايات المتحدة الأمريكية

الرؤية: الريادة في توفير فرص تعلم دائمة ومبتكرة وذات جودة عالية للمجتمع القطري.

الرسالة: تنظيم ودعم فرص تعلم ذات جودة عالية لكافة المراحل والمستويات، وذلك بهدف تنمية المعارف والمهارات والاتجاهات اللازمة لأفراد المجتمع القطري، بما يناسب إمكاناتهم وقدراتهم وفق القيم والاحتياجات الوطنية.



أي من الأسباب الآتية: يؤدي إلى ندرة السكان في شمال قارة أمريكا الشمالية؟

3

شدة البرودة

A

كثافة الغابات

B

وجود الصحاري

C

ارتفاع درجة الحرارة

D

تتجه معدلات الوفيات في قارة أمريكا الشمالية بشكل عام نحو:

4

الثبات.

A

التطابق.

B

الارتفاع.

C

الانخفاض.

D

• ثانياً السؤال المقالى: أجب عن الآتي:

1. ما النتائج المترتبة على الأعاصير في قارة أمريكا الشمالية؟

الإجابة: 1 أ- خسائر مادية وتدمير الطرق والمباني
ب- انتشار الحرائق
ج- حدوث الوفيات

2. بم تفسر انخفاض معدل المواليد بقارة أمريكا الشمالية؟

الإجابة: 1 تأخر سن الزواج وارتفاع معدلات الطلاق
ب- عمل المرأة
ج- ارتفاع مستوى المعيشة

انتهت الأسئلة

الرؤية: الريادة في توفير فرص تعلم دائمة ومبتكرة وذات جودة عالية للمجتمع القطري.

الرسالة: تنظيم ودعم فرص تعلم ذات جودة عالية لكافة المراحل والمستويات، وذلك بهدف تنمية المعارف والمهارات والاتجاهات اللازمة لأفراد المجتمع القطري، بما يناسب إمكاناتهم وقدراتهم وفق القيم والاحتياجات الوطنية.



أوراق علاجية الوحدة الأولى (الأنشطة الاقتصادية في قارة أمريكا الشمالية)

اسم الطالب / " الأسبوع الخامس 4-8 فبراير -2024م "

أولاً : الاختيار من متعدد :

1- تشتهر مدينة ديترويت في الولايات المتحدة الأمريكية بصناعة:

أ السيارات

الطائرات

المنسوجات

الحديد والصلب

2- أكثر دول قارة أمريكا الشمالية في إنتاج قصب السكر

كندا.

جامايكا.

المكسيك.

الولايات المتحدة الأمريكية.

3- أي المعادن التالية يتركز إنتاجه في جامايكا؟

أ- الحديد

ب- الذهب

ج- البوكسيت

د- الفوسفات



-أجب عما يلي

1- عدد أنماط الزراعة في قارة أمريكا الشمالية.

1---. التجارية

2 . الزراعة بهدف انتاج الالبان

3. الزراعة المختلطة

2- وضح خصائص الزراعة في قارة أمريكا الشمالية.

أ- انخفاض الأيدي العاملة

ب- اتساع مساحة المزارع

ج -زيادة الانتاج الزراعي

3- أذكر عوامل تطور الصناعة قارة أمريكا الشمالية؟

ا -توفر رؤوس الأموال

ب- التقدم العلمي والتكنولوجي

ج- تطور شبكة المواصلات

4- عدد مصادر الطاقة غير المتجددة في قارة أمريكا الشمالية.

1الفحم

2-البترول

3-الغاز الطبيعي



الزراعة التجارية والزراعة المختلطة من حيث الخصائص والمحاصيل في قارة أمريكا الشمالية.

الأنواع	الزراعة التجارية	الزراعة المختلطة
الخصائص	1- انتشار الملكيات الفردية الكبيرة 2- تعتمد على محصول زراعي واحد	1- يتم تربية الحيوانات بجانب الزراعة 2- المرونة في تغيير النمط الزراعي والحيواني
المحاصيل	1- القمح 2- الذرة	1- الذرة

6- قارن بين إقليم وسط ساحل المحيط الأطلنطي الصناعي، وإقليم سواحل المحيط الهادي الصناعي في قارة أمريكا الشمالية من حيث المراكز الصناعية وأهم الصناعات:

أوجه المقارنة	إقليم وسط ساحل المحيط الأطلنطي الصناعي	إقليم سواحل المحيط الهادي
المراكز الصناعية	1- إقليم وسط ساحل المحيط الأطلنطي: - المراكز الصناعية: - مدينة بوسطن - بالتيمور	- منطقة فانكوفر- سياتل - سان فرانسيسكو- لوس أنجلوس
أهم الصناعات	الحديد والصلب- السيارات - الطائرات - الأقمشة الصوفية والقطنية - السلع الجلدية	- معدات الثلاجات - المواد الغذائية - الخشبية

الرؤية: الريادة في توفير فرص تعلم دائمة ومبتكرة وذات جودة عالية للمجتمع القطري.

الرسالة: تنظيم ودعم فرص تعلم ذات جودة عالية لكافة المراحل والمستويات، وذلك بهدف تنمية المعارف والمهارات والاتجاهات اللازمة لأفراد المجتمع القطري، بما يناسب إمكاناتهم وقدراتهم وفق القيم والاحتياجات الوطنية.



7- قارن بين الصادرات والواردات في قارة أمريكا الشمالية:

الواردات	الصادرات
1-النیکل 2-الفحم 3-البترول 4-الفواكه والخضروات	1السيارات 2-الطائرات 3-الآلات 4-المعدات الصناعية 5-الأسلحة -

8- عدد أشهر المناطق السياحية في بعض دول قارة أمريكا الشمالية .

1مجمع متاحف سميثسونيان

2-شلالات نياجرا

3.منتزه يوسيميتي الوطني بكاليفورنيا



أوراق علاجية الوحدة الثانية (قارة أمريكا الجنوبية)

اسم الطالب / " الأسبوع السادس 11-15 فبراير -2024م

أولاً : الاختيار من متعدد :

1- أكبر دول قارة أمريكا الجنوبية مساحة:

بيرو

البرازيل

كولومبيا

الأرجنتين

2- الدولة الشريطية في قارة أمريكا الجنوبية:

تشيلي

كولومبيا

الأرجواي

الأرجنتين

3- أي الهضاب التالية الأقل اتساعاً وارتفاعاً والأشد جفافاً في قارة أمريكا الجنوبية؟

أ- ماتو

ب- جيانا

ج- بتاجونيا

د- البرازيل



4- تقع جبال الإنديز في قارة أمريكا الجنوبية في الجهة:

الشرقية الشمالية

الغربية الجنوبية

-أجب عما يلي-

1- عدد الهضاب في قارة أمريكا الجنوبية.

هضبة جيانا

هضبة البرازيل

هضبة بتا جونيا

2- عدد السهول في قارة أمريكا الجنوبية .

سهول اللانوس

سهول السلفاس

سهول البمباس

3- وضح خطورة حرائق غابات الأمازون.

أ- تساعد الرياح على سرعة انتشار النيران

ب- صعوبة السيطرة على النيران إلى داخا الغابات الاستوائية المتشابكة

ج- تهدد الحرائق سكان القبائل المحلية

4- وضح الجهود الدولية للمحافظة على الغابات.

1- تقديم مساعدات مادية للمساهمة في المحافظة على غابات الامازون،

2- استخدام الأقمار الصناعية لمراقبة الغابات الاستوائية ورصد الحرائق بها وقت حدوثها.

مشاركة جميع دول العالم في جهود إطفاء حرائق الغابات الاستوائي



5- وضح أسباب تناقص مساحة غابات الأمازون.

1- قطع الأشجار لإحلال الزراعة، أو تحويلها لمراعي للماشية، أو استخدامها للصناعة.

2- التوسع العمراني وبناء المدن.

3- حرائق الغابات التي تمثل أكبر الأخطار على الغابة الاستوائية في أمريكا الجنوبية

6- ما العوامل المؤثرة في مناخ قارة أمريكا الجنوبية

الموقع بالنسبة لدوائر العرض

شكل القارة

مظاهر السطح

7- بم تفسر أهمية سهول حوض الأمازون (السلفاس) في قارة أمريكا الجنوبية؟

1- تُعد أوسع السهول الفيضية في العالم.

2- يجري بها نهر الأمازون الذي ينبع من جبال الأنديز ويصب في المحيط الأطلنطي.

3- تتميز بوجود أكبر غابة استوائية في العالم.

8- قارن بين السهول الساحلية لقارة أمريكا الجنوبية على طول سواحل المحيطين الأطلنطي والهادي:

ساحل المحيط الهادي	ساحل المحيط الأطلنطي
- تتميز السهول المطلة على المحيط الهادي بالضيق نتيجة اقتراب جبال الأنديز من السواحل	- تتميز السهول المطلة على المحيط الأطلنطي بالاتساع نتيجة استواء السطح في الجهات الساحلية.

أمامك خريطة صماء لقارة أمريكا الجنوبية، اكتب ما تدل عليه الأرقام الموضحة عليها:



الأطلسي

1 - المحيط

الاستواء

2 - دائرة

الجدى

3 - مدار

ماجلان

4 - مضيق

جيانا

5 - هضبة

الأنديز

6 - جبال

أتكاما

7 - صحراء

الأمازون

8 - نهر

البمباس

9 - سهول

الرؤية: الريادة في توفير فرص تعلم دائمة ومبتكرة وذات جودة عالية للمجتمع القطري.

الرسالة: تنظيم ودعم فرص تعلم ذات جودة عالية لكافة المراحل والمستويات، وذلك بهدف تنمية المعارف والمهارات والاتجاهات اللازمة لأفراد المجتمع القطري، بما يناسب إمكاناتهم وقدراتهم وفق القيم والاحتياجات الوطنية.



أوراق علاجية الوحدة الثانية (قارة أمريكا الجنوبية)

اسم الطالب / "الأسبوع السابع 18-22 فبراير 2024م"

أولاً : الاختيار من متعدد :

التقييم الثاني - الصف الحادي عشر - شهر فبراير

التاريخ: 2024/2م

- أولاً الأسئلة الموضوعية: قم بتحديد إجابتك بوضع علامة X في المربع المقابل للاختيار الصحيح:

مادة: الجغرافيا	الزمن: 10 دقائق
اسم الطالب	الصف/الشعبة
.....	11 /

1	الدولة الشريطية في قارة أمريكا الجنوبية:
A	تشيلي
B	كولومبيا
C	الأرجواي
D	الأرجنتين
2	أكبر دول قارة أمريكا الجنوبية مساحة:
A	بيرو
B	البرازيل
C	كولومبيا
D	الأرجنتين

الرؤية: الريادة في توفير فرص تعلم دائمة ومبتكرة وذات جودة عالية للمجتمع القطري.

الرسالة: تنظيم ودعم فرص تعلم ذات جودة عالية لكافة المراحل والمستويات، وذلك بهدف تنمية المعارف والمهارات والاتجاهات اللازمة لأفراد المجتمع القطري، بما يناسب إمكاناتهم وقدراتهم وفق القيم والاحتياجات الوطنية.



3

يقع مضيق ماجلان في قارة أمريكا الجنوبية في الجهة:

A

الغربية.

B

الجنوبية.

C

الشرقية.

D

الشمالية.

• ثانياً السؤال المقالى: أجب عن الآتي:

س- بيّن الجهود الدولية للمحافظة على الغابات في قارة أمريكا الجنوبية.

- 1- تقديم مساعدات مادية للمساهمة في المحافظة على غابات الأمازون،
- 2- استخدام الأقمار الصناعية العالمية لمراقبة الغابات الاستوائية ورصد الحرائق بها وقت حدوثها.
- 3- مشاركة جميع دول العالم في جهود إطفاء حرائق الغابات الاستوائية.
- 4- تشجيع الدول في أمريكا الجنوبية على الاستثمار وبناء المدن بعيداً عن الغابات الاستوائية.
- 5- اتخاذ قرارات دولية بمعاينة دول القارة التي لا تحافظ على الغابات الاستوائية.

س- ما أسباب تناقص مساحة غابات الأمازون بقارة أمريكا الجنوبية؟

الإجابة: 1- قطع الأشجار

2- التوسع العمراني

3- حرائق الغابات

انتهت الأسئلة



أوراق علاجية الوحدة الثانية قارة أمريكا الجنوبية- (السكان في قارة أمريكا الجنوبية)

اسم الطالب / "الأسبوع العاشر 10 - 14 / مارس 2024 م"

أولاً : الاختيار من متعدد :

1- المرتبة التي تحتلها قارة أمريكا الجنوبية بين قارات العالم من حيث عدد السكان:

أ- الثانية

ب- الثالثة

ج- الرابعة

د- الخامسة

2- الدولة التي تحتل المرتبة الخامسة عالمياً من حيث عدد السكان:

أ- تشيلي

ب- البرازيل

ج- كولومبيا

د- الأرجنتين

3- بلغ العمر الوسيط في قارة أمريكا الجنوبية:

أ- 25.5 سنة

ب- 30.5 سنة

ج - 35.5 سنة

د - 40.5 سنة



ثانيا - أجب عما يلي:

بم تفسر:

1- ارتفاع معدل الزيادة الطبيعية لقارة أمريكا الجنوبية عن مثيلتها بأمريكا الشمالية.

1- ارتفاع معدلات المواليد عما أمريكا الشمالية

2- انخفاض معدلات الوفيات في أمريكا الجنوبية.

2- جلب الزوج الافارقة إلى قارة أمريكا الجنوبية.

1- بسبب رخص أجورهم، وقلة خبرة السكان الأصليين لأمريكا الجنوبية
الهنود الحمر

2 - رفض الهنود الحمر التعاون مع الأوروبيين الدخلاء،

3-نشوب عدة حروب بين الأوروبيين والسكان الأصليين لأمريكا الجنوبية، قُتل
فيها الآلاف من السكان الأصليين

3- لعبت الهجرة دورا حيويا في النمو السكاني بقارة أمريكا الجنوبية.

1- استقبلت القارة تيارات هجرة عديدة من أوروبا وأفريقيا

2- هاجرت جماعات سكنت السواحل الشرقية والشمالية للقارة أعقب ذلك
هجرة الأوروبيين للقارة

3- بدأت هجرات أخرى من اسبانيا والبرتغال وإيطاليا وألمانيا وانجلترا وفرنسا
وهولندا بنحو 4 ملايين نسمة

4- وضح أسباب تباين معدلات المواليد بقارة أمريكا الجنوبية.

1- اختلاف نوع المهاجرين لكل دولة بدول القارة باختلاف الثقافة

2- اختلاف مستوى تمكين الشباب والمرأة بين دول القارة

3- ارتفاع معدلات الوفيات الأطفال بالدول ذات معدلات المواليد المرتفعة مثل
دولة بوليفيا



5- أمامك خريطة صماء، لقارة أمريكا الجنوبية أكتب مدلول الأرقام التي عليها:

- 1- أول دول القارة من حيث عدد السكان **البرازيل**
- 2- ثاني دول القارة من حيث عدد السكان **كولومبيا**
- 3- ثالث دول القارة من حيث عدد السكان **الارجنتين**
- 4- منطقة ذات كثافة سكانية منخفضة **حوض الامازون**





الوحدة الثانية (قارة أمريكا الجنوبية)

اسم الطالب / " **الأسبوع الحادي عشر 17 - 21 / مارس 2024 م**

التاريخ: 2024/3/..... تقييم قصير شهر مارس

مادة: الدراسات الاجتماعية	الزمن: 10 دقائق
اسم الطالب	الصف / الحادي عشر
.....

أولاً الأسئلة الموضوعية:

1 تُعد الدولة الأولى من حيث عدد السكان في قارة أمريكا الجنوبية:

- أ- تشيلي
- ب- البرازيل
- ج- كولومبيا
- د- الأرجنتين

2 المرتبة التي تحتلها قارة أمريكا الجنوبية بين قارات العالم من حيث عدد السكان:

- أ- الثانية
- ب- الثالثة
- ج- الرابعة
- د- الخامسة

3 الدولة التي تحتل المرتبة الخامسة عالمياً من حيث عدد السكان:

- أ- تشيلي
- ب- البرازيل
- ج- كولومبيا
- د- الأرجنتين



• ثانياً السؤال المقالى: أجب عن الآتى:

1- قارن بين السهول الساحلية لقارة أمريكا الجنوبية على طول سواحل المحيطين الأطلنطي والهادي:

ساحل المحيط الهادي	ساحل المحيط الأطلنطي
تتميز السهول بالضيق نتيجة اقتراب جبال الانديز من السواحل	تتميز السهول بالاتساع نتيجة استواء السطح في الجهات الساحلية.

2- دلل على الجهود الدولية في المجال الاقتصادي للمحافظة على الغابات في قارة أمريكا الجنوبية.

1- تقديم مساعدات مادية للمساهمة في المحافظة على غابات الامازون،

2- استخدام الأقمار الصناعية العالمية لمراقبة الغابات الاستوائية ورصد الحرائق بها وقت حدوثها.

3- تشجيع الدول في أمريكا الجنوبية على الاستثمار وبناء المدن بعيدا عن الغابات الاستوائية.

3- بم تفسر جلب الزنوج الافارقة إلى قارة أمريكا الجنوبية؟

1- بسبب رخص أجورهم، وقلة خبرة السكان الأصليين لأمريكا الجنوبية الهنود الحمر

2- رفض الهنود الحمر التعاون مع الأوروبيين الدخلاء،

3- نشوب عدة حروب بين الأوروبيين والسكان الأصليين لأمريكا الجنوبية، قُتل فيها الآلاف من السكان الأصليين

4- وضح أسباب تباين معدلات المواليد بقارة أمريكا الجنوبية.

1- اختلاف نوع المهاجرين لكل دولة بدول القارة باختلاف الثقافة

2- اختلاف مستوى تمكين الشباب والمرأة بين دول القارة

3- ارتفاع معدلات الوفيات الأطفال بالدول ذات معدلات المواليد المرتفعة مثل دولة بوليفيا



أوراق علاجية الوحدة الثانية (الأنشطة الاقتصادية في قارة أمريكا الجنوبية)

اسم الطالب / " الأسبوع الثاني عشر 24 - 28 / مارس 2024 م

أولاً: الاختيار من متعدد:

1- أكثر الحرف انتشارا في قارة أمريكا الجنوبية:

أ- الرعي

ب- الزراعة

ج- التعدين

د- الصناعة

2- تتركز الزراعة التجارية في أمريكا الجنوبية حول نهر:

أ- لابلاتا

ب- الامازون

ج- أور نكو

د- المسيسيبي

3- أولى دول قارة أمريكا الجنوبية في زراعة القمح:

أ- تشيلي

ب- البرازيل

ج- كولومبيا

د- الأرجنتين



ثانيا - أجب عما يلي:

بم تفسر:

1- تطور الصناعة في قارة أمريكا الجنوبية؟

1- اتساع مساحة القارة

1-تنوع مواردها الطبيعية وثرواتها المعدنية

1- كثرة عدد السكان بالقارة

2- أهمية النقل الجوي في قارة أمريكا الجنوبية؟

1- الامتداد الطولي للقارة وبعد المسافات بين أجزائها الشمالية والجنوبية

2- طبيعة السطح الوعرة خاصة على الساحل الغربي للقارة

1- موقع القارة المتطرفة جنوبا نسبة لبقية القارات الشمالية

3-ازدهار التجارة الخارجية في قارة أمريكا الجنوبية؟

1- تنوع مواردها الطبيعية

2-

3- تنوع المنتجات الصناعية والحاصلات الزراعية

3- زيادة قيمة الصادرات في البرازيل لتصل على 240 مليار دولار ، والأرجنتين بنسبة 61.6 مليار دولار

4- قارن بين الصادرات والواردات في قارة أمريكا الجنوبية:

الواردات	الصادرات
الآلات – وسائل النقل – زيت البترول قطع غيار السيارات – الأجهزة الكهربائية – لخطوط الهاتف والتلغراف – الغازات البترولية.	البن – الكاكاو – الذرة – فول الصويا – القمح – النحاس – القصدير – السكر – التبغ – السيارات – الأسماك.



أوراق علاجية الوحدة الثانية (الأنشطة الاقتصادية في قارة أمريكا الجنوبية)

اسم الطالب / " الأسبوع الثالث عشر 31 - 3 - 4 / 4 / أبريل 2024 م

أولاً: الاختيار من متعدد:

1- ثاني دول قارة أمريكا الجنوبية في تربية الأغنام:

أ- تشيلي

ب- البرازيل

ج- كولومبيا

د- الأرجنتين

2- أعلى دول قارة أمريكا الجنوبية في إنتاج الأسماك:

أ- بيرو

ب- تشيلي

ج- كولومبيا

د- الأرجنتين

3- أوسع المعادن انتشاراً في أمريكا الجنوبية:

أ- الحديد

ب- الذهب

ج- النحاس

د- البوكسيت



ثانيا -أجب عما يلي:

1- وضح المشكلات التي يعاني منها الإنتاج الزراعي في قارة أمريكا الجنوبية.

1- نقص موارد المياه العذبة.

2- تدهور التربة بفعل التعرية

3- الافتقار إلى المغذيات، ونقص إنتاجية الفدان.

2- عدد أنواع المراعي في قارة أمريكا الجنوبية.

أ - حشائش اللانوس. ب - حشائش الكامبوس.

ج - حشائش البمباس. د - الحشائش الباردة.

3- اذكر التحديات التي تواجه الرعي في قارة أمريكا الجنوبية.

أ - تدهور المراعي الطبيعية.

ب - موت أعداد كبيرة من حيوانات الرعي، وخاصة العجول.

ج - عدم الكفاءة الفنية للعاملين في مجال الرعي التجاري.

4 - اقترح حلولاً لمشكلات الثروة الحيوانية بقارة أمريكا الجنوبية.

أ - تحسين السلالات، وتوفير الرعاية البيطرية.

ب - توفير الأعلاف أو إصلاح المراعي الطبيعية

ج - حفر الآبار لتوفير المياه لري المراعي



5- اكتب ما تشير إليه الأرقام على قارة أمريكا الجنوبية التي أمامك:

- 1-ميناء **ساو باولو** 4-أولى الدول في إنتاج الأسماك **بيرو**
- 2-دولة منتجة لنخيل الزيت. **كولومبيا** 5- دولة تشتهر بانتشار المراعي **الأرجنتين**
- 3.دولة منتجة للنحاس **شيلي** 6-ثاني الدول المنتجة للبترول **فنزويلا**





أوراق علاجية الوحدة الثالثة (الخصائص الطبيعية لقارة أستراليا)

اسم الطالب / " الأسبوع الخامس عشر 14 - 18 / 4 / ابريل 2024 م

أولاً : الاختيار من متعدد :

1- تقع قارة أستراليا بالنسبة إلى الكرة الأرضية في النصف:

أ-الشرقي

ب-الغربي

ج- الشمالي

د- الجنوبي

2- أي دوائر العرض الرئيسة الآتية تمر وسط قارة أستراليا؟

أ- مدار الجدي

ب- خط الاستواء

ج- مدار السرطان

د- الدائرة القطبية

3- يحد قارة أستراليا شرقاً:

أ- بحر أرافورا

ب- الخليج الأسترالي

ج- المحيط الهادي

د- المحيط الهندي

4- تُعد من الجزر القريبة من قارة أستراليا:

أ- هاواي

ب- تسمانيا

ج- مدغشقر

د- جرينلاند



5- يصل عدد دول قارة أستراليا.

أ- 14

ب- 15

ج - 16

د- 17

6- أكثر جبال قارة أستراليا ارتفاعاً:

أ- دارلينج

ب- ماكdonald

ج - مسجريف

د- كوسيو سكو

7- يصب نهر دارلينج في:

أ- بحر أرافورا

ب- خليج سبسنر

ج- المحيط الهادي

د- المحيط الهندي

8- الفصل الذي يسود في شهر يناير في أستراليا.

أ- الصيف

ب- الشتاء

ج- الربيع

د- الصيف



ثانيا - أجب عما يلي:

1- عدد العوامل المؤثرة في مناخ قارة أستراليا.

1- الموقع بالنسبة لدوائر العرض

2- الموقع الجغرافي والمساحة

3- مظاهر السطح

4- التيارات البحرية

2- بم تفسر قلة عدد السكان في غرب قارة أستراليا؟

1- بسبب الجفاف

2- انتشار الصحاري

3- وجود البحيرات المالحة

3- وضح الأثر المناخي لامتداد مرتفعات الحاجز الكبير من الشمال إلى الجنوب في أستراليا.

1- عاقبة وصول التأثيرات البحرية الشرقية على داخل القارة

2- ارتفاع كميات الامطار على السفوح الشرقية الأكثر مطرا فيح تقل الامطار تدريجيا نحو المناطق الداخلية

3- تغطية الجليد الأجزاء الجنوبية الشرقية من مرتفعات الحاجز الكبير طوال العام

4 - اذكر أهم المحميات البحرية في قارة استراليا لحماية البيئة.

1- محمية الحاجز المرجاني الكبير

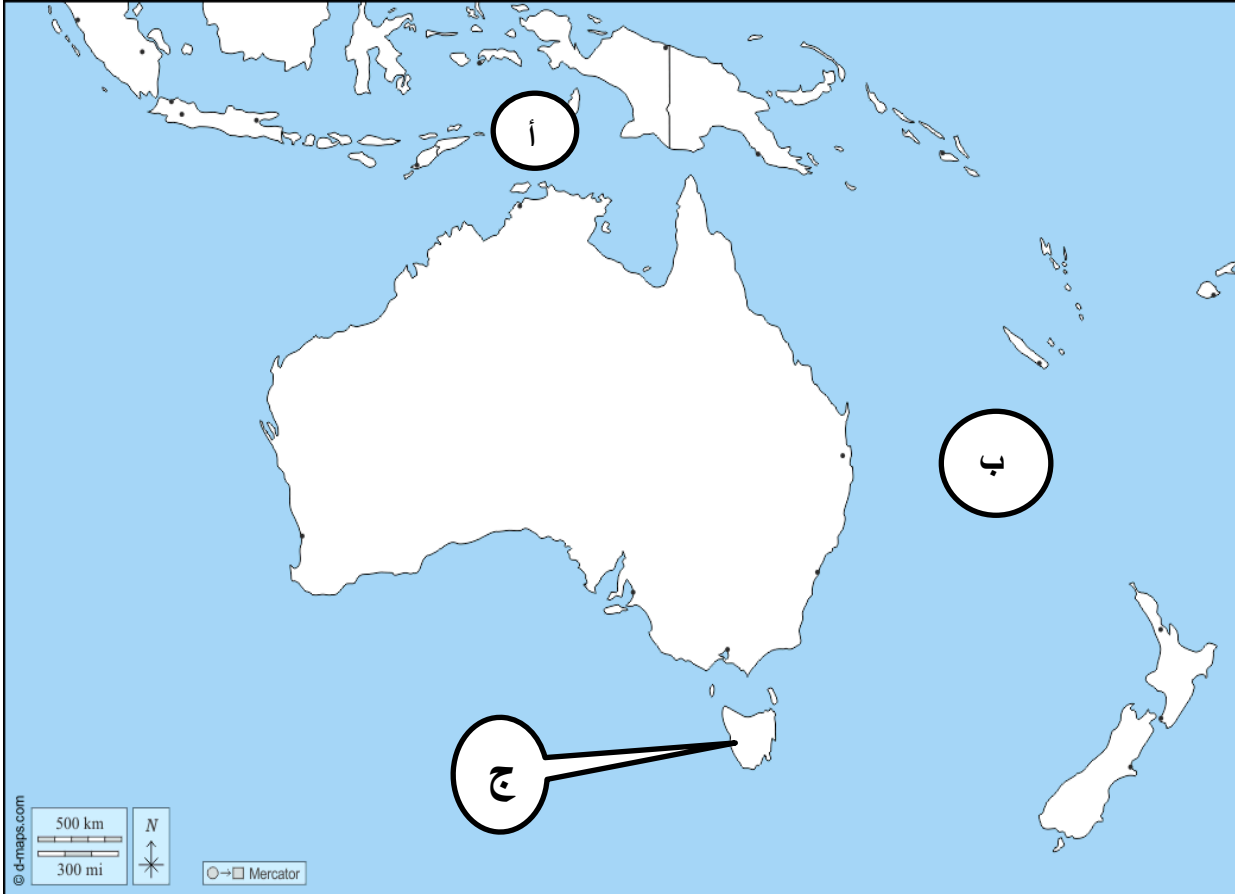
2- محمية المنجروف

5- اكتب ما تشير إليه الأرقام على خريطة قارة أستراليا التي أمامك:

أ- بحر: أرافورا

ب- المحيط: الهادي

ج- جزيرة: تسمانيا



الرؤية: الريادة في توفير فرص تعلم دائمة ومبتكرة وذات جودة عالية للمجتمع القطري.

الرسالة: تنظيم ودعم فرص تعلم ذات جودة عالية لكافة المراحل والمستويات، وذلك بهدف تنمية المعارف والمهارات والاتجاهات اللازمة لأفراد المجتمع القطري، بما يناسب إمكاناتهم وقدراتهم وفق القيم والاحتياجات الوطنية.



أوراق علاجية الوحدة الثالثة (الخصائص الطبيعية لقارة أستراليا)

اسم الطالب / "الأسبوع السادس عشر 21 - 25 / أبريل 2024 م"

التاريخ: 2024/4/..... تقييم قصير شهر ابريل

مادة: الدراسات الاجتماعية	الزمن: 10 دقائق
اسم الطالب	الصف / الحادي عشر
.....

أولاً الأسئلة الموضوعية:

1 أي دوائر العرض الرئيسية الآتية تمر وسط قارة أستراليا؟

- مدار الجدي
- خط الاستواء
- مدار السرطان
- الدائرة القطبية

2 يحد قارة أستراليا شرقاً:

- بحر أرافورا
- الخليج الأسترالي
- المحيط الهادي
- المحيط الهندي

3 تعد من الجزر القريبة من قارة أستراليا:

- هاواي
- تسمانيا
- مدغشقر
- جرينلاند



• ثانياً السؤال المقالى: أجب عن الآتى:

1- ما العوامل المؤثرة في مناخ قارة أستراليا.

1- الموقع بالنسبة لدوائر العرض

2- مظاهر السطح

3 الموقع الجغرافي والمساحة

4- التيارات البحرية

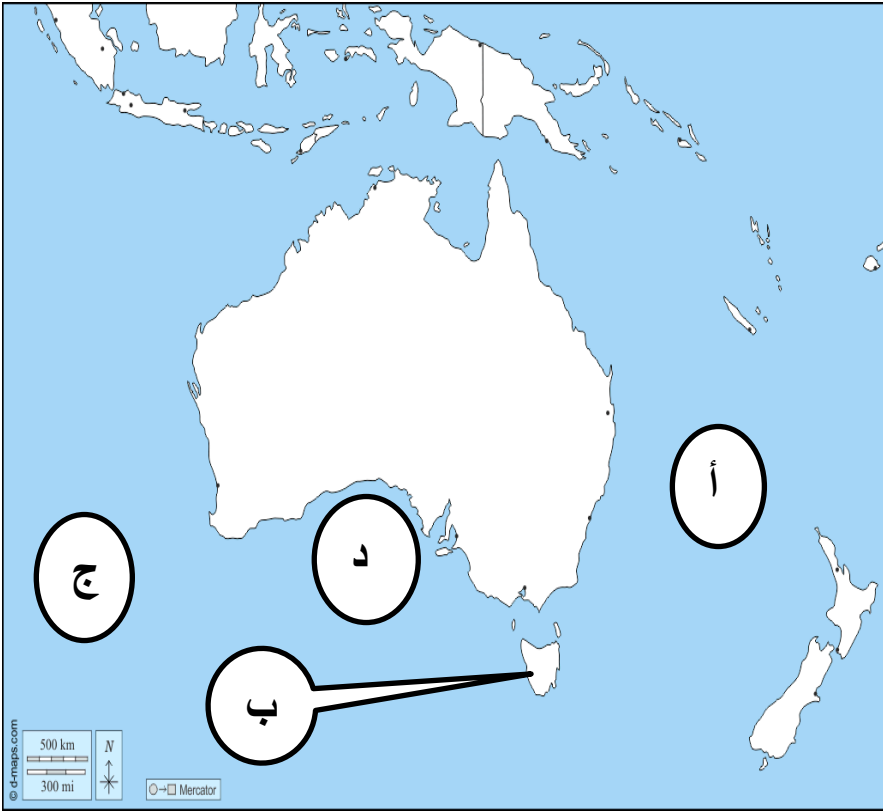
2- اكتب ما تشير إليه الأرقام على خريطة قارة أستراليا التي أمامك:

أ- المحيط: الهادي

ب- جزيرة: تسمانيا

ج- المحيط: الهندي

د- خليج الاسترالي الكبير



3-بم تفسر قلة عدد السكان في وسط وغرب قارة أستراليا؟

1- وجود المناطق الصحراوية

2- ندرة سقوط الامطار

3- ارتفاع درجة الحرارة

الرؤية: الريادة في توفير فرص تعلم دائمة ومبتكرة وذات جودة عالية للمجتمع القطري.

الرسالة: تنظيم ودعم فرص تعلم ذات جودة عالية لكافة المراحل والمستويات، وذلك بهدف تنمية المعارف والمهارات والاتجاهات اللازمة لأفراد المجتمع القطري، بما يناسب إمكاناتهم وقدراتهم وفق القيم والاحتياجات الوطنية.



أوراق علاجية الوحدة الثالثة (السكان في قارة أستراليا)

اسم الطالب / " الأسبوع السابع عشر 28 - 4 / 2 - 5 مايو 2024 م

أولاً: الاختيار من متعدد:

1- المرتبة التي تحتلها قارة أستراليا بين قارات العالم من حيث عدد السكان:

أ- الثالثة

ب- الرابعة

ج- الخامسة

د- السادسة

2- تمت زيادة عدد سكان قارة أستراليا في الفترة من عام 1975م حتى 2020م:

أ- مرة

ب- مرتين

ج- نصف مرة

د- ثلاث مرات

3- تُعد الدولة الأولى من حيث عدد السكان في قارة أستراليا:

أ- فيجي

ب- أستراليا

ج- نيوزلندا

د- بابوا غينيا الجديدة



4- وفد المهاجرون لقارة أستراليا من قارة:

أ- آسيا

ب- أوروبا

ج- إفريقيا

د- أمريكا الشمالية

5- يتجه معدل المواليد والوفيات بقارة أستراليا نحو:

أ- الثبات

ب- التطابق

ج- الارتفاع

د- الانخفاض

6- تبلغ نسبة سكان قارة أستراليا في سن العمل:

أ- ربع

ب- ثلث

ج- ثلثي

د- نصف

7- تبلغ نسبة الطفل الأصغر من 14 عاما بقارة أستراليا:

أ- ربع

ب- ثلث

ج- ثلثي

د- نصف



-أجب عما يلي:

1-وضح السياسات السكانية في قارة أستراليا.

1- تشجيع الهجرة من دول العالم إلى أستراليا وخاصة أصحاب المهارات.

2- مساندة الأسر كبيرة العدد تشجيعاً لها. (كالإجازة الوالدية ومدفوعات الضمان الاجتماعي)

3- تم الحفاظ على معدل نمو سكاني 2%. (المواليد والهجرة معا)

2-بم تفسر قلة عدد السكان في غرب قارة أستراليا؟

1- وجود المناطق الصحراوية

2- ندرة سقوط الامطار

3- ارتفاع درجة الحرارة

3- بم تفسر تشجيع استراليا الهجرة الوافدة لأصحاب المهارات؟

1- لسد حاجة سوق العمل الأسترالي.

2- تقليل معدل الشيخوخة في المستقبل

4- بم تفسر لعبت الهجرة دوراً حيوياً في النمو السكاني بقارة أستراليا؟

1- تضاعف سكان قارة استراليا نحو خمسين مرة في مائة عام من 1850-

1950.

2- تضاعف أكثر من مائة مرة في قرن ونصف قرن من الزمن (168 عاما).



5- قارن بين المناطق المرتفعة والمنخفضة في الكثافة السكانية بقارة أستراليا من حيث المنطقة والسبب:

أوجه المقارنة	المنطقة	السبب
مناطق مرتفعة الكثافة	العواصم والمدن الكبرى: مثل سيدني، ملبورن. حول نهري مري ودارلنج في الجنوب الشرقي.	- حيث تتوفر الخدمات وفرص العمل. - لخصوبة التربة.
مناطق منخفضة الكثافة	- وسط وغرب القارة. - الأجزاء الشمالية من أستراليا.	المناطق الصحراوية، وندرة سقوط الأمطار، وارتفاع درجة الحرارة. حيث المناطق المدارية.



أوراق علاجية الوحدة الثالثة (الأنشطة الاقتصادية في قارة أستراليا)

اسم الطالب / " الأسبوع الثامن عشر 5 - 9 / 5 مايو 2024 م

أولاً: الاختيار من متعدد:

1- تتركز زراعة البحر المتوسط في أستراليا في الأجزاء؟

أ- الجنوبية الشرقية

ب- الجنوبية الغربية

ج- الشمالية الشرقية

د- الشمالية الغربية

2- تم نقل كثير من المحاصيل الزراعية إلى قارة أستراليا عن طريق المهاجرين:

أ- الافارقة

ب- الأمريكيين

ج- الاسيويين

د- الأوروبيين

3- يُعد أكثر المعادن انتشاراً في قارة أستراليا:

أ- الزنك

ب- الحديد

ج- الذهب

د- الرصاص



4- تعد من أهم المناطق الصناعية في الإقليم الصناعي الغربي مدينة:

أ- برث

ب- أدليد

ج- سيدني

د- ملبورن

-أجب عما يلي:

1- عدد أنماط الزراعة في قارة أستراليا.

- أ - الزراعة التجارية. ب - نمط الزراعة البحر المتوسط.
ج - الزراعة لإنتاج الألبان. د- الزراعة الكثيفة.

2- اذكر أقسام المراعي في قارة أستراليا.

- أ - مراعي الشمال الصيفية.
ب - مراعي الجنوب الغربي والجنوب الشرقي الشتوية.
ج - مراعي الداخل الجافة

3- عدد أهم مناطق الجذب السياحي في قارة أستراليا.

1- بحيرات كال دونيا الجديدة المرجانية

2- الجبال الزرقاء

3- منتزه بورنو لولو الوطني



4- قارن بين الصادرات والواردات في قارة استراليا:

الواردات	الصادرات
السيارات ومعدات الاتصالات السلكية واللاسلكية – النفط المكرر – والمنسوجات	المعادن الخام – الذهب – الغاز الطبيعي وخام الحديد – السكر – الحمص المنتجات الحيوانية اللحم البقري والصوف

5- وضح أهمية النقل البحري في قارة أستراليا.

- 1- ساعد موقع قارة استراليا بين (الأميركتين من جهة وآسيا من جهة وآسيا من جهة أخرى) على سهولة النقل بين الأميركتين وشرقي آسيا .



أوراق علاجية الوحدة الثالثة (قارة أستراليا)

اسم الطالب / " الأسبوع التاسع عشر 12 – 16 / مايو 2024 م

التاريخ: 2024/5/..... تقييم قصير شهر مايو

مادة: الدراسات الاجتماعية	الزمن: 10 دقائق
اسم الطالب	الصف / الحادي عشر
.....

أولاً الأسئلة الموضوعية:

1 أي دوائر العرض الرئيسية الآتية تمر وسط قارة أستراليا؟

- أ- مدار الجدي
- ب- خط الاستواء
- ج- مدار السرطان
- د- الدائرة القطبية

2 بحد قارة أستراليا شرقاً:

- أ- بحر أرافورا
- ب- الخليج الأسترالي
- ج- المحيط الهادي
- د- المحيط الهندي

3 أي من المراحل السكانية الآتية تعيشها قارة أستراليا؟

- أ- الانفجار
- ب- الاستقرار
- ج- التزايد المبكر
- د- التزايد المتأخر



ثانياً السؤال المقالى: أجب عن الآتى:

1- ما العوامل المؤثرة في مناخ قارة أستراليا.

1- الموقع بالنسبة لدوائر العرض

2- مظاهر السطح

3 الموقع الجغرافي والمساحة

4- التيارات البحرية

2- بم تفسر انخفاض كثافة السكان وسط وغرب قارة أستراليا؟

1- وجود المناطق الصحراوية

2- ندرة سقوط الأمطار

3- ارتفاع درجة الحرارة

3- اذكر أنماط الزراعة في قارة أستراليا.

أ - الزراعة التجارية. ب - نمط الزراعة البحر المتوسط.
ج - الزراعة لإنتاج الألبان. د- الزراعة الكثيفة.

4- عدد الصادرات في قارة أستراليا.

1- المعادن الخام – الذهب —

2- الغاز الطبيعي - وخام الحديد

3- السكر – الحمص المنتجات الحيوانية- اللحم البقري - والصوف

انتهت الأسئلة